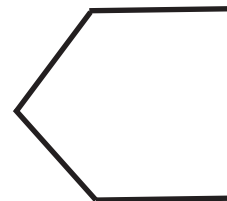
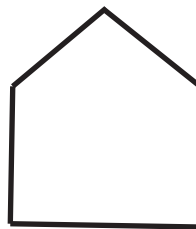
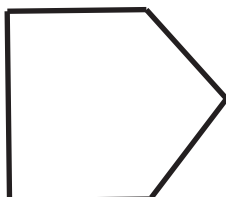



10. Le motif A est créé en répétant les quatre termes ci-dessous dans l'ordre présenté.

**Motif A**



Numéro du terme 1

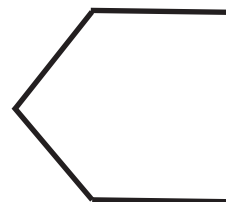

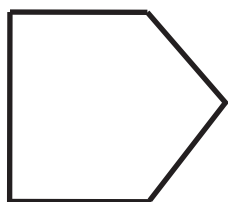
2

3

4

Le motif B est créé en répétant les trois termes ci-dessous dans l'ordre présenté.

**Motif B**



Numéro du terme 1

2

3

Trouve le terme dans les deux motifs qui est identique et qui a le même numéro de terme.

Montre ton travail.